




*Nhiệt liệt chào mừng Quý thầy, cô về dự giờ*

**Môn: Lịch sử và địa lí**

**Lớp: 5**

**Bài 4: Dân cư và dân tộc ở Việt Nam ( tiết 1)**

*Giáo viên: Đặng Lan Anh*





**KHƠI  
ĐÔNG**



D-ID



VTV1 HD  
Trực tiếp



**Cộng đồng 54 Dân tộc Việt Nam diễu hành chào mừng Quốc khánh 2-9**



**Chia sẻ cảm nhận của em sau khi xem video?**



**Chia sẻ cảm nhận của em sau khi xem video?**

**Kể tên một số dân tộc ở Việt Nam mà em biết?**

+ Hình ảnh trên thể hiện chính sách đại đoàn kết dân tộc của Đảng và Nhà nước Việt nam.

+ Một số dân tộc ở Việt nam là: Kinh, Mường, Tày, Thái, Mông, Dao, Nùng, Hoa, Hà Nhì...





# BÀI 4

## DÂN CƯ VÀ DÂN TỘC Ở VIỆT NAM

# YÊU CẦU CẦN ĐẠT

- ❖ Nêu được số dân và so sánh được quy mô dân số Việt Nam với một số nước trong khu vực Đông Nam Á.
- ❖ Nhận xét được sự gia tăng dân số ở Việt Nam và một số hậu quả do gia tăng dân số nhanh và phân bố dân cư chưa hợp lí ở Việt Nam, có sử dụng tranh ảnh, biểu đồ hoặc bảng số liệu



# KHÁM PHÁ





# Hoạt động 1: Tìm hiểu về số dân của Việt Nam

## Dựa vào bảng 1, em hãy cho biết:

+ Năm 2021, Việt Nam có số dân là bao nhiêu nghìn người?

+ So sánh số dân của Việt Nam với số dân một số quốc gia trong khu vực Đông Nam Á.

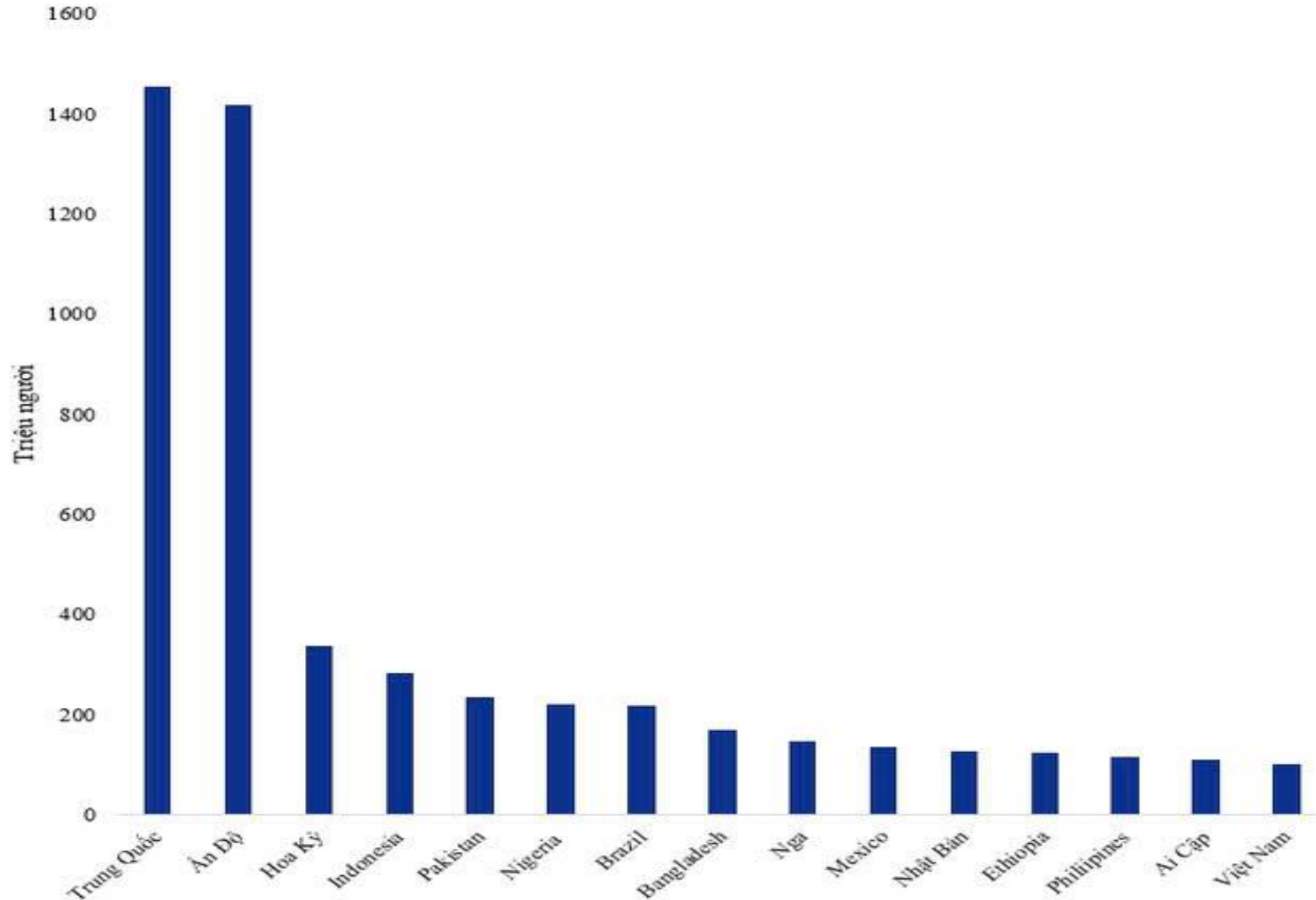
**Bảng 1. Số dân các quốc gia khu vực Đông Nam Á năm 2021**

STT	Quốc gia	Số dân (nghìn người)	STT	Quốc gia	Số dân (nghìn người)
1	In-đô-nê-xi-a	273 753	7	Cam-pu-chia	16 589
2	Phi-líp-pin	113 880	8	Lào	7 425
3	Việt Nam*	98 504	9	Xin-ga-po	5 941
4	Thái Lan	71 601	10	Ti-mo Lét-xtê	1 321
5	Mi-an-ma	53 798	11	Bru-nây	445
6	Ma-lai-xi-a	33 574			

\* Số liệu của Việt Nam lấy theo Niên giám thống kê Việt Nam năm 2022

(Nguồn: Liên hợp quốc năm 2022)

## Top 15 quốc gia đông dân nhất thế giới năm 2022



Top 15 quốc gia đông dân nhất thế giới năm 2022. Nguồn: Theo UNFPA.

Việt Nam là quốc gia đông dân. Năm 2021, số dân của nước ta đứng thứ 3 trong khu vực Đông Nam Á và thứ 15 trên thế giới.

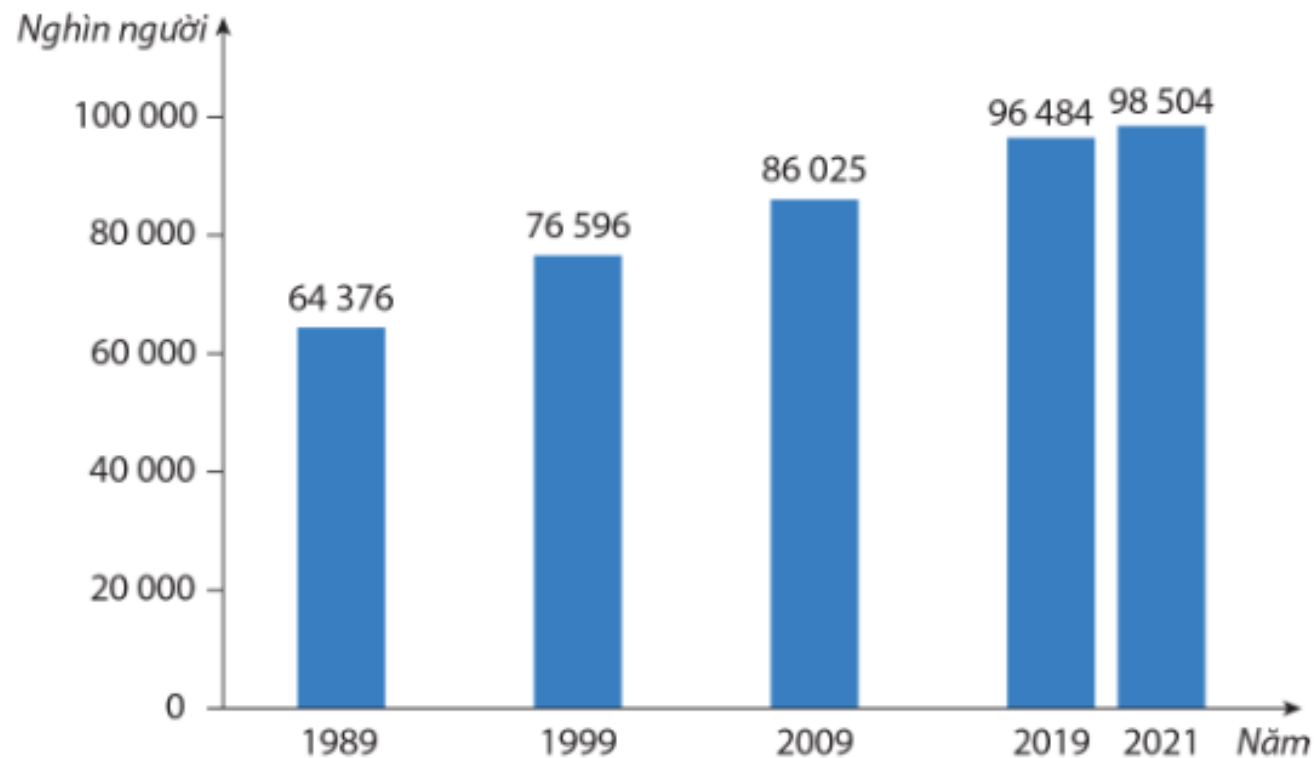


## Hoạt động 2:

**Tìm hiểu về gia tăng dân số**



**Đọc thông tin và quan sát các hình 2, 3, 4 trang 21 SGK, em hãy:**  
**+ Nhận xét về sự gia tăng dân số của Việt Nam.**  
**+ Nêu một số hậu quả do dân số tăng nhanh ở Việt Nam.**



**Hình 2. Biểu đồ số dân Việt Nam qua các năm**  
(Nguồn: Tổng cục Thống kê Việt Nam)

# Tác động của dân số đến kinh tế - xã hội và môi trường ở nước ta



**Phá rừng  
lấy đất sản xuất**



**Thiếu nước sạch**

# Tác động của dân số đến kinh tế - xã hội và môi trường ở nước ta



**Ùn tắc giao thông  
ở đô thị**



**Rác thải ngày càng  
nhiều**

# Tác động của dân số đến kinh tế – xã hội và môi trường ở nước ta



**Thiếu lương thực**



**Dịch bệnh nguy hiểm**

# Tác động của dân số đến kinh tế - xã hội và môi trường ở nước ta



**Tỷ lệ thất nghiệp  
tăng**



**Siêu bão, thiên tai**



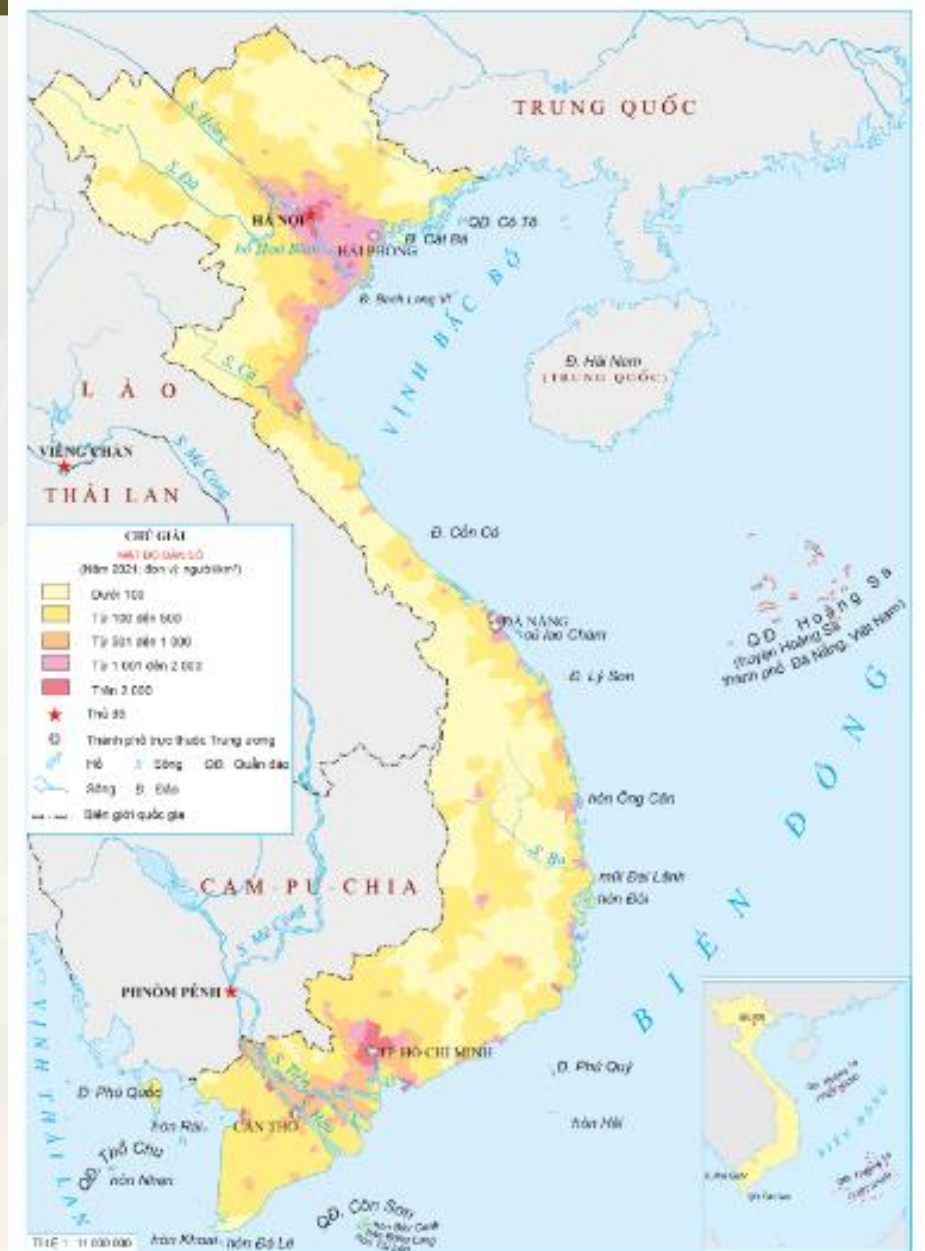
- **Dân số Việt Nam tăng nhanh, trung bình mỗi năm tăng thêm khoảng 1 triệu người.**
- **Hậu quả:** suy giảm tài nguyên thiên nhiên, gia tăng ô nhiễm môi trường, gây khó khăn trong việc nâng cao chất lượng cuộc sống của người dân (thiếu việc làm, khó khăn trong việc đảm bảo nhà ở, cơ hội giáo dục, chăm sóc y tế,...).

# Hoạt động 3: Tìm hiểu về phân bố dân cư



**Quan sát hình 5 trang 22 SGK và đọc thông tin, em hãy:**

- + Nhận xét sự khác nhau về mật độ dân số giữa đồng bằng, ven biển và miền núi.
- + Cho biết sự phân bố dân cư chưa hợp lí dẫn đến những hậu quả gì?



**Hình 5. Lược đồ mật độ dân số Việt Nam năm 2021**

## SỐ DÂN CÁC VÙNG Ở VIỆT NAM NĂM 2021

Các vùng	Số dân (nghìn người)
Trung du và miền núi Bắc Bộ	14 275
Đồng bằng Bắc Bộ	21 872
Duyên hải miền Trung	20 585
Tây Nguyên	6 034
Nam Bộ	35 738

+ Dân cư Việt Nam phân bố chưa hợp lí: Dân cư tập trung đông đúc ở đồng bằng và ven biển, miền núi dân cư thưa thớt. Ở thành thị có mật độ dân số cao hơn ở nông thôn.

+ Sự phân bố dân cư chưa hợp lí gây khó khăn cho việc khai thác tài nguyên và sử dụng nguồn lao động



**Chúng ta có thể làm gì để khắc phục tình trạng dân cư phân bố không đều? (Làm thế nào để dân cư phân bố đều ở các khu vực, địa phương?)**



**Phải quan tâm phát triển kinh tế ở các vùng miền, xây dựng đường giao thông, trường học... để thu hút dân cư đến sinh sống**





**VẬN  
DỤNG**



Em hãy chia sẻ về sự gia tăng dân số ở địa phương em (làng, xã, huyện) theo hiểu biết của em.





Kính chúc các thầy  
cô giáo mạnh khỏe,  
hạnh phúc; chúc các  
em học sinh chăm  
ngoan, học giỏi!